

يسعى إليك بما اشتبهى ... ت لدى الروح وفي البكور
فقال: حسن، ثم ماذا؟ فقال:
فإذا النفوس تقعقت ... في ضيق حشرة الصدور
فهنالك تعلم موقناً ... ما كنت إلا في غرور
فبكي الرشيد بكاء شديداً حتى رُجم، فقال له الفضل بن
يحيى البرمكي: بعث إليك المؤمنين لتسره فأحزنه، فقال له
الرشيد: دعه فإنه رآنا في عمى فكره أن يزيدنا عمى .

عش ما بدا لك
دخل الشاعر أبو العتاهية على الخليفة العباسي هارون
الرشيد - ت 193 هـ - حين بنى قصره، وزخرف مجلسه،
واجتمع إليه خواصه، فقال له: صف لنا ما نحن فيه من الدنيا
فقال:
عش ما بدا لك سالماً ... في ظل شاهقة القصور
فقال الرشيد: أحسنت، ثم ماذا؟ فقال:

ياني لا مثيل له
فتح يزيد بن المهلب جرجان - عام 98هـ - وأصاب تاجاً
فيه جواهر فقال: أترون أحداً يزهد في هذا؟ قالوا: لا. فدعا
محمد بن واسع الأزدي اليماني فقال: خذ هذا التاج. قال: لا
حاجة لي فيه. قال: عزمت عليك.. فأخذه، فأمر يزيد رجلاً ينظر
ما يصنع به، فلقي سائلاً فدفعه إليه، فأخذ الرجل السائل وأتى
به يزيد وأخبره، فأخذ يزيد التاج وعوض السائل مالا كثيراً .

مفكرة اليوم



1916

اغتيال الراهب الروسي
غريغوري راسبوتين على يد
النبلاء الروس الذين كانوا
يتوقون لإنهاء تأثيره على العائلة
المالكة.

1938

وقوع اشتباك بين أحد التجار
وأحد حراس المجلس التشريعي
في الكويت أدى إلى حل المجلس
بعد عدة أيام.

1969

البرلمان البريطاني يصوت
بأغلبية كبيرة لصالح إلغاء
عقوبة الإعدام في حالة جرائم
القتل.

1971

البحرين تعلن استقلالها عن
المملكة المتحدة وذلك بعد مئة
وعشر سنوات من الاحتلال
البريطاني.

1988

بدء الحوار الرسمي بين
الولايات المتحدة ومنظمة
التحرير الفلسطينية.

1991

إلغاء قرار الأمم المتحدة
الذي ساوى بين الصهيونية
والعنصرية.

1998

بدأ عملية نخلب الصحراء
التي قامت بها الولايات
المتحدة والمملكة المتحدة ضد
العراق وذلك بقصف أهداف
ومنشآت حساسة بصواريخ
كروز، وإستمرت العملية مدة
ثلاثة أيام.

2007

قوات الأمن العراقية تتسلم
أمن مدينة البصرة من القوات
البريطانية.

2009

المجلس المركزي في منظمة
التحرير الفلسطينية يقرر تمديد
ولاية الرئيس محمود عباس
والمجلس التشريعي وذلك
حتى إجراء الانتخابات الرئاسية
والتشريعية، وحركة حماس
ترفض القرار وتصف المجلس
المركزي بغير الشرعي.

2012

شابة هندية تتعرض للضرب
والاغتصاب الجماعي في دلهي،
ما أثار احتجاجات واسعة
النطاق في البلاد.



كلمات متقاطعة

أفقي:

- شعورنا- اشمل
- التقدير والتعظيم (م) - قرص "الحشرات"
- متبدلان ومتغيران - حسن الخلق
- زال عنها البلل
- تحدث بصوت منخفض (م)- قامات
- وجع- الصغير من الدجاج (م)
- حرف هجاء- نجيع- غالي ونادر (م)
- وهو "مبعثرة"- وقوف السفينة على الشاطئ
- عاصمة "نيبال" (م) - متشابهان
- نسيت (م) - الكلم
- طرق- ضد أحياء

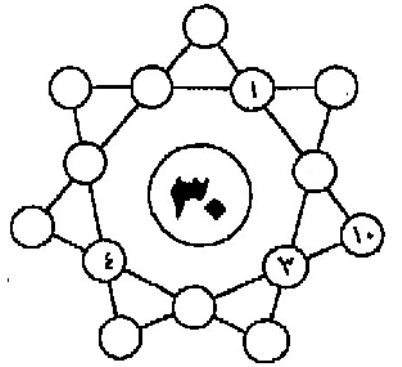
عمودي:

- رقائق صغيرة شديدة الحساسية تستخدم
للاستعمار- ما تثبت به الخيمة
- ضروري لكل قفل- مدة طويلة من الزمن
- أمدتهما بالسلاح - نَعاس (م)
- شق وقطع (م)-
- انسكب - حركة الماء في البحار (م)
- نال "مبعثرة"- عشبة تستخدم في الطعام
شديدة الرائحة (م)
- بعُد (م)- ثلثا "أصف"- انقض عليه
- شرفة حلقة- أعلى الساق (م)
- الرياح الشديدة- ثلثا "حام"
- رقم- ما تعبد به الطرقات (م)
- نهاية الأمر وعاقبته وآخره- أضواء



حل العدد السابق

نجمة الأرقام



حاول ان تضع باقي الأرقام من (1) إلى (14) في الدوائر التي تراها عند تقاطع خطوط نجمة الأرقام , بحيث يكون مجموع الأرقام على امتداد كل خط دائماً هو الرقم الذي في قلب النجمة , أي (30)

للأنكباء فقط:

كم عدد الدقائق المتبقية لتصل الساعة إلى الواحدة بعد منتصف الليل إذا كان بعد ساعة من الآن سيكون عدد الدقائق الزائدة على الواحدة ثلاثة أضعاف المتبقية على الواحدة؟

حل العدد السابق: ساعة و 10 دقيقة

التفسير:
بقسمة 1 على 6 = 6 ÷ 1 = 6، بقسمة 1 على 3 = 3 ÷ 1 = 3
بقسمة 1 على 5 = 5 ÷ 1 = 5، بقسمة 1 على 10 = 10 ÷ 1 = 10
وبجمعهم = 6 + 3 + 5 + 10 = 24
ثم نقسم 1 على 24 = 0,04 أي ساعة وربع

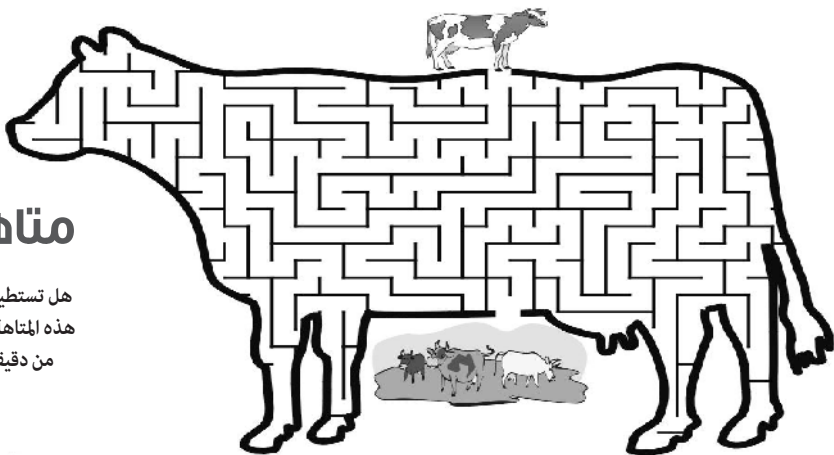
الاختلافات السبعة

بين الصورة وعكسها سبعة اختلافات هل تستطيع تحديدهم في أقل من دقيقة؟



متاهة

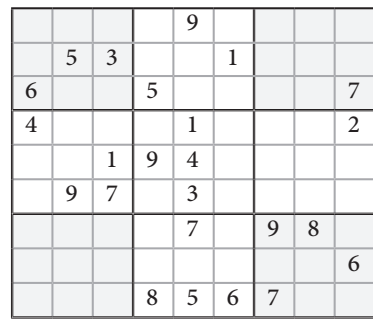
هل تستطيع عبور هذه المتاهة في أقل من دقيقة؟




سودوكو

كيفية اللعب:

على اللاعب إكمال الجدول بواسطة أرقام من 1 - 9 ، شرط استعمال كل رقم مرة واحدة فقط في كل خط أفقي وفي كل خط عمودي وفي كل منطقة من المناطق التسع .



الشكل الصحيح



بين الأشكال الستة هناك شكل واحد فقط يكمل الشكل الكبير، هل تستطيع تحديده في أقل من دقيقة؟